

2022

経済・経営
人文・法学部

地理問題

解答はすべてマーク式で解答用紙に記入して下さい。
解答用紙のみ提出して下さい。

2022年2月9日(水)実施

マーク式解答用紙記入上の注意

- [1] 解答用紙はすべて**HBの黒鉛筆**で記入して下さい。(万年筆・ボールペン・シャープペンシルなどは使用できません。)
- [2] 解答用紙は折りまげたり、破ったり、汚したりしないで丁寧に取り扱いして下さい。
- [3] 解答は解答用紙の指定された解答欄に記入し、その他の部分には何も書いてはいけません。
- [4] 氏名を記入して下さい。
- [5] 受験番号を記入し、さらにその下のマーク欄にマークして下さい。
- [例] 受験番号が0010123のときは
- [6] 解答科目欄から**解答する科目**を1つ選び、科目の右の○にマークして下さい。マークされていない場合、または複数の科目にマークされている場合は、0点となります。

氏 名
鈴木一郎

受 験 番 号						
0	0	1	0	1	2	3
0	0	0	0	0	0	0
1	1	1	1	1	1	1
2	2	2	2	2	2	2
3	3	3	3	3	3	3
4	4	4	4	4	4	4
5	5	5	5	5	5	5
6	6	6	6	6	6	6
7	7	7	7	7	7	7
8	8	8	8	8	8	8
9	9	9	9	9	9	9

- [7] 解答番号は から まであります。

マークの記入方法は、例えば、 と表示のある問に対して③と解答する場合は、次の[例]のように**解答番号 10**の**解答欄**に③とマークして下さい。

[例]

解答番号	解 答 欄									
10	①	②	③	④	⑤	⑥	⑦	⑧	⑨	⑩

- [8] 一度記入したマークを訂正する場合、消しゴムで**完全に消してから**記入しなおして下さい。
- [9] 解答がおわったら、解答用紙に付着している消しゴムの消しくずをきれいに**取り除いて**下さい。

(注) ① と ② のマーク間違いに注意して下さい。

1 地図と地理的技能に関する次の文章を読み、設問に答えよ。(解答番号 ～)

地図は、作成の意図や目的により、 と に大別できる。 は、地形や道路などの要素を基本に、地表の事象をできるだけ網羅的に取りあげたもので、国土地理院が発行する地形図や、地図帳に地方別で掲載されている地図などがこれにあたる。 は、気候・^(a)土壌・人口分布など、特定の事象について重点的に表現したもので、市町村役場などで発行されている土地利用図や都市計画図、地図帳に掲載されているテーマ別の統計地図などがこれにあたる。

統計数値を用いて数量や分布を視覚的に表現した地図を統計地図という。統計地図は、 の一種であり、 と の2つに大別できる。

の代表例として、 やドットマップなどがある。 では や がその例である。国や都道府県などの単位地区ごとに得られた相対値をいくつかに区分し、それぞれに対応する色や模様のパターンで単位地区を塗り分けた は、単位地区の面積が違ふと値の大きさが視覚的に過大もしくは過小にみえることもあるため、絶対値を表現するには適さない。

地図にはさまざまな図法がある。それは球面上のすべての情報を平面上に正しく表現することが^(b)難しいためである。

面積が正しく表現されている地図の図法にはメルワイデ図法、サンソン図法、 などがあり、これらは分布図などの統計地図に最も適した図法である。 はメルワイデ図法とサンソン図法の両者を で接合し、さらに海洋と南極大陸を切り裂いてひずみを軽減したものである。

角度が正しく表現されている地図の図法の1つにメルカトル図法がある。^(c)この図法は、等角航路が直線で示されるため、航海図として利用される。

設 問

1) 空所 , に入れる語句の組合せとして正しいものを、選択肢から1つ選べ。

- | | | |
|---|-------|-------|
| ① | ア：実測図 | イ：主題図 |
| ② | ア：実測図 | イ：編集図 |
| ③ | ア：一般図 | イ：編集図 |
| ④ | ア：一般図 | イ：主題図 |

2) 空所 , に入れる語句の組合せとして正しいものを, 選択肢から1つ選べ。

- | | | |
|---|----------|----------|
| ① | ウ: 絶対分布図 | エ: 図形表現図 |
| ② | ウ: 絶対分布図 | エ: 相対分布図 |
| ③ | ウ: 数値地図 | エ: 相対分布図 |
| ④ | ウ: 数値地図 | エ: 図形表現図 |

3) 空所 ~ に入れる語句の組合せとして正しいものを, 選択肢から1つ選べ。

- | | | | |
|---|------------|------------|------------|
| ① | オ: 階級区分図 | カ: メッシュマップ | キ: 等値線図 |
| ② | オ: 階級区分図 | カ: 等値線図 | キ: メッシュマップ |
| ③ | オ: 等値線図 | カ: 階級区分図 | キ: メッシュマップ |
| ④ | オ: 等値線図 | カ: メッシュマップ | キ: 階級区分図 |
| ⑤ | オ: メッシュマップ | カ: 階級区分図 | キ: 等値線図 |
| ⑥ | オ: メッシュマップ | カ: 等値線図 | キ: 階級区分図 |

4) 空所 , に入れる語句の組合せとして正しいものを, 選択肢から1つ選べ。

- | | | |
|---|------------------|-----------------|
| ① | ク: トレミー図法 | ケ: 緯度 66 度 33 分 |
| ② | ク: トレミー図法 | ケ: 緯度 40 度 44 分 |
| ③ | ク: ホモロサイン(グード)図法 | ケ: 緯度 40 度 44 分 |
| ④ | ク: ホモロサイン(グード)図法 | ケ: 緯度 66 度 33 分 |

5) 下線部分(a)に関連して, 国土地理院が発行する地形図の3つの縮尺として正しいものを, 選択肢から1つ選べ。

- | | | | |
|---|---------|---------------|-----------|
| ① | 4 万分の 1 | 2 万 5000 分の 1 | 1 万分の 1 |
| ② | 4 万分の 1 | 2 万分の 1 | 5000 分の 1 |
| ③ | 5 万分の 1 | 2 万 5000 分の 1 | 1 万分の 1 |
| ④ | 5 万分の 1 | 2 万分の 1 | 5000 分の 1 |

6) 下線部分(b)に関連して、国際連合の旗に図案化されている地図の図法として正しいものを、
選択肢の中から1つ選べ。

- ① 正距方位図法 ② 正距図法 ③ 正積図法 ④ 正角図法

7) 下線部分(c)に関連して、メルカトル図法の特徴について述べた文として最も適当なものを、
選択肢から1つ選べ。

- ① 緯線と経線が直交し、緯線と任意の直線がつくる角度がすべて正しく、緯線に対して一定の角度に保つことで航路を定めることができる。
- ② 緯線と経線が直交し、経線と任意の直線がつくる角度がすべて正しく、経線に対して一定の角度に保つことで航路を定めることができる。
- ③ 経線がつくる正弦曲線が任意の緯線と交わる角度がすべて正しく、緯線に対して一定の角度に保つことで航路を定めることができる。
- ④ 緯線がつくる正弦曲線が任意の経線と交わる角度がすべて正しく、経線に対して一定の角度に保つことで航路を定めることができる。

※試験問題は次のページに続きます。

2 次のA・Bの文章を読み、それぞれの設問に答えよ。(解答番号 ～)

A モンスーン^(a)の影響を受けて降水量が多く、夏に高温になる東南アジアから中国南部の沖積平野では、農村の人口密度が高く、狭い耕地に多くの労働力が投入される 的稲作農業が行われており、単位面積あたりの生産量すなわち 生産性は高い。また、これらの地域では米の が行われている。東南アジアや南アジアでは1960年代以降、緑の革命^(b)が進められた。

広大な砂漠やステップでは、山ろくの水を地下水路で引いて灌漑したり^(c)、外来河川から水を得たりすることで、小麦・なつめやし・綿花・ぶどうなどを栽培するオアシス農業が行われている。

設 問

1) 空所 ～ に入れる語句の組合せとして正しいものを、選択肢から1つ選べ。

- | | | | |
|---|-------|-------|-------|
| ① | ア：集 約 | イ：労 働 | ウ：二期作 |
| ② | ア：粗 放 | イ：土 地 | ウ：二毛作 |
| ③ | ア：集 約 | イ：土 地 | ウ：二期作 |
| ④ | ア：粗 放 | イ：労 働 | ウ：二毛作 |

2) 下線部分(a)に関する説明として正しいものを、選択肢から1つ選べ。

- ① 冬は内陸部に高気圧ができ、暖かく気圧の低い海洋に向かって吹く。
- ② 亜熱帯高圧帯から熱帯収束帯に向けて、恒常的に吹く。
- ③ 亜熱帯高圧帯から亜寒帯低圧帯に吹く卓越風である。
- ④ 夏に暖くなる大陸から海洋に向かって吹く局地風である。

3) 下線部分(b)に関連して述べた文として**不適当なもの**を、選択肢から1つ選べ。 10

- ① これにより、高収量品種の導入や化学肥料の投入、灌漑施設の整備が行われ、農業の生産性が向上した。
- ② これが進んだ一方で、食の安全や近代的な農法の環境への影響に関心が高まり、有機農業の推進をはかるなど、これまでの農業の近代化のあり方を見直す動きも現れている。
- ③ アジアでは食料増産に成功した国もあるが、発展途上国のなかには、依然として農業生産力、食料自給率が低くてカロリー摂取量も少ない国が多い。
- ④ これにより、農業の生産性が向上したために、とくにインドにおいては貧しい農民の地位が高まり、裕福な農民との貧富の格差が改善された。

4) 下線部分(c)に関連して、アフガニスタンやパキスタンにみられる地下水路の名称として正しいものを、選択肢から1つ選べ。 11

- ① カナート ② フォガラ ③ カナルチン ④ カレーズ

B ドイツやフランスなどの中部ヨーロッパでは、かつて中世において耕地を冬作物・夏作物・休閑地にわける エ 農業が行われたが、現代では作物栽培と家畜飼育を組合せた オ 農業が行われている。また、北西ヨーロッパ沿岸の カ では、協同組合組織の発達により、酪農が農業の中心となっている。さらにオランダ^(d)などでは、野菜や花卉^{かき}・果実などを栽培する園芸農業^(e)が盛んである。

アメリカ合衆国の中西部、オハイオ州の西部からアイオワ州にかけての比較的湿潤な地域^(f)では、機械化が進んでおり、生産性の高い農業が行われている。

設 問

5) 空所 エ ~ カ に入れる語句の組合せとして正しいものを、選択肢から1つ選べ。 12

- | | | |
|----------|-------|---------|
| ① エ：地中海式 | オ：混 合 | カ：ベルギー |
| ② エ：三圃式 | オ：企業的 | カ：デンマーク |
| ③ エ：地中海式 | オ：企業的 | カ：ベルギー |
| ④ エ：三圃式 | オ：混 合 | カ：デンマーク |

6) 下線部分(d)に関連して、この国にみられる干拓によって造成された牧草地や農地の名称として正しいものを、選択肢から1つ選べ。 13

- ① ポルダー ② パンパ ③ メ サ ④ アルプ

7) 下線部分(e)に関する説明として**不適切なもの**を、選択肢から1つ選べ。 14

- ① 現金収入を目的とする野菜や花卉・果実などの栽培は、単位面積あたりの収益が大きく、多くの資本を投入して集約的に行われる。
- ② 北西ヨーロッパや北アメリカ、日本などの大都市周辺で近郊農業として発展してきた。
- ③ 輸送手段の発達とともに、大都市から離れた地域でも、トラックファーミングが行われるようになった。
- ④ 世界市場向けに単一作物を大規模に栽培する農業である。広大な農場で工芸作物の栽培も行っている。

8) 下線部分(f)に関連して、この地域の名称として正しいものを、選択肢から1つ選べ。

15

- ① デイリーベルト ② コーンベルト ③ コットンベルト ④ 春小麦地帯

※試験問題は次のページに続きます。

3 中国に関する次の文章を読み、設問に答えよ。(解答番号 16 ~ 23)

1912年、によって中華民国が成立し、中国最後の王朝であるは滅亡した。第2次世界大戦後、政治の主導権をめぐっての率いる中国国民党との指導する中国共産党との間に対立がおき、中国共産党がに中華人民共和国を建国した。それ以来、中国は社会主義の道を歩み、政府が経済全般を統制する経済のしくみを導入した。農村では、集団で農業や工場を営むとともに、行政、教育の機能を持つと呼ばれる組織がつくられた。しかし、経済運営は順調に進まず、1978年からはの指導のもとに改革開放政策が進められた。また、外国資本も積極的に導入され、外国企業を優遇し誘致を進めるための拠点として、華南の沿岸部を中心にやが設けられた。外国企業の進出と中国企業の成長により、大量の工業製品を輸出するようになり、今日では「」と呼ばれている。^(a)_(b)

中国は、にWTO(世界貿易機関)に加盟し、各国との貿易を活発化させ、2010年には、GDP(国内総生産)でアメリカに次いで世界2位となり、輸出額では世界の首位に立つことになった。また、鉄鉱石や石炭などの鉱産資源にも恵まれている。^(c)鉄鉱石の産出量ではブラジルやオーストラリアを抜いて世界1位であり、レアメタルも世界の産出量の大部分を占めている。^(d)

設 問

1) 空所, に入れる語句の組合せとして正しいものを、選択肢から1つ選べ。

- | | | |
|---|---------|-----|
| ① | ア：辛亥革命 | イ：清 |
| ② | ア：文化大革命 | イ：明 |
| ③ | ア：辛亥革命 | イ：明 |
| ④ | ア：文化大革命 | イ：清 |

2) 空所 , , に入れる語句の組合せとして正しいものを, 選択肢から1つ選べ。

- | | | | |
|---|-------|-------|-------|
| ① | ウ：毛沢東 | エ：蒋介石 | ク：鄧小平 |
| ② | ウ：毛沢東 | エ：鄧小平 | ク：蒋介石 |
| ③ | ウ：蒋介石 | エ：毛沢東 | ク：鄧小平 |
| ④ | ウ：蒋介石 | エ：鄧小平 | ク：毛沢東 |
| ⑤ | ウ：鄧小平 | エ：毛沢東 | ク：蒋介石 |
| ⑥ | ウ：鄧小平 | エ：蒋介石 | ク：毛沢東 |

3) 空所 , に入れる語句の組合せとして正しいものを, 選択肢から1つ選べ。

- | | | |
|---|------|--------|
| ① | カ：市場 | キ：郷鎮企業 |
| ② | カ：市場 | キ：人民公社 |
| ③ | カ：計画 | キ：郷鎮企業 |
| ④ | カ：計画 | キ：人民公社 |

4) 空所 , に入れる語句の組合せとして正しいものを, 選択肢から1つ選べ。

- | | | |
|---|---------|---------|
| ① | オ：1945年 | ケ：1989年 |
| ② | オ：1945年 | ケ：2001年 |
| ③ | オ：1949年 | ケ：1989年 |
| ④ | オ：1949年 | ケ：2001年 |

5) 下線部分(a)に関連して、経済特区に設定された5か所の地域の組合せとして正しいものを、
選択肢から1つ選べ。 20

- ① シェンチェン(深圳)・チューハイ(珠海)・スワトウ(汕頭)・アモイ(廈門)・
ハイナン(海南)島
- ② シェンチェン(深圳)・シャンハイ(上海)・テンチン(天津)・アモイ(廈門)・
チンタオ(青島)
- ③ シャンハイ(上海)・チューハイ(珠海)・テンチン(天津)・チンタオ(青島)・
ハイナン(海南)島
- ④ スワトウ(汕頭)・シャンハイ(上海)・チンタオ(青島)・シェンチェン(深圳)・
ハイナン(海南)島

6) 下線部分(b)に関連して、図1はある工業製品の生産量に占める中国の割合を示したものである。i～iiiに該当する工業製品の組合せとして最も適当なものを、下の①～⑥の選択肢から1つ選べ。 21

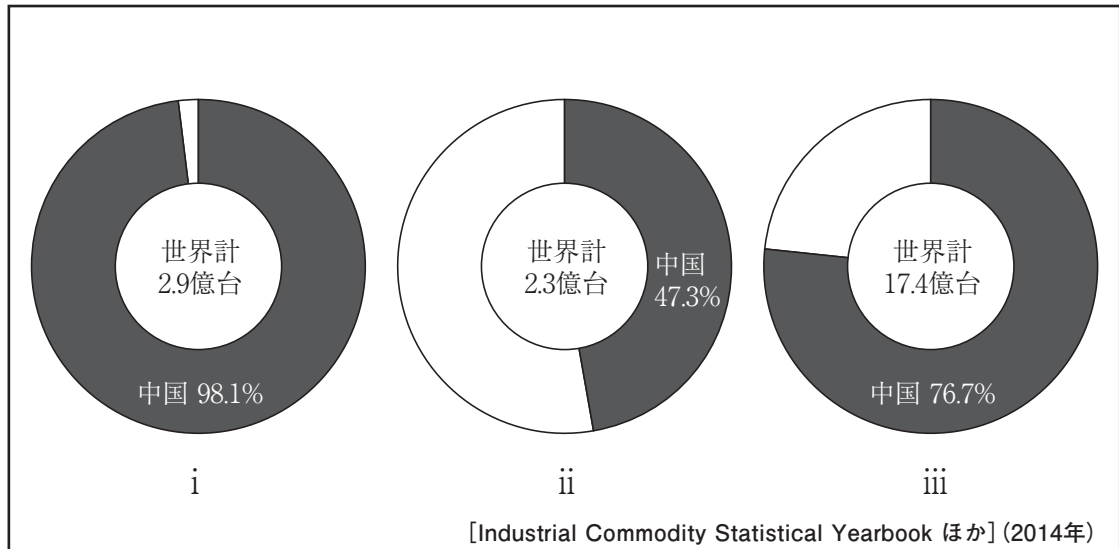


図1

	i	ii	iii
①	パソコン	カラーテレビ	携帯電話
②	パソコン	携帯電話	カラーテレビ
③	携帯電話	パソコン	カラーテレビ
④	携帯電話	カラーテレビ	パソコン
⑤	カラーテレビ	携帯電話	パソコン
⑥	カラーテレビ	パソコン	携帯電話

7) 下線部分(c)に関連して、図2はある非鉄金属の国別産出量の割合を示したものである。iv・vに該当する資源の組合せとして最も適当なものを、下の①～④の選択肢から1つ選べ。

22

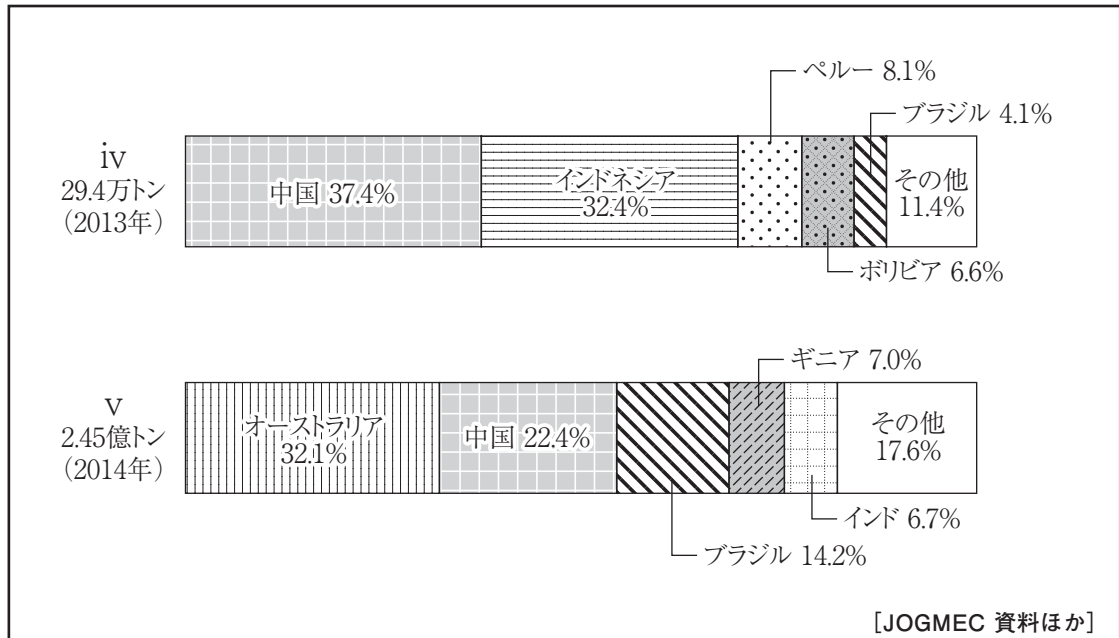


図2

	iv	v
①	鉛	銅
②	鉛	ボーキサイト
③	すず	銅
④	すず	ボーキサイト

8) 下線部分(d)に関連して，図3はあるレアメタルの国別産出量の割合を示したものである。このレアメタルとして最も適当なものを，下の①～④の選択肢から1つ選べ。 23

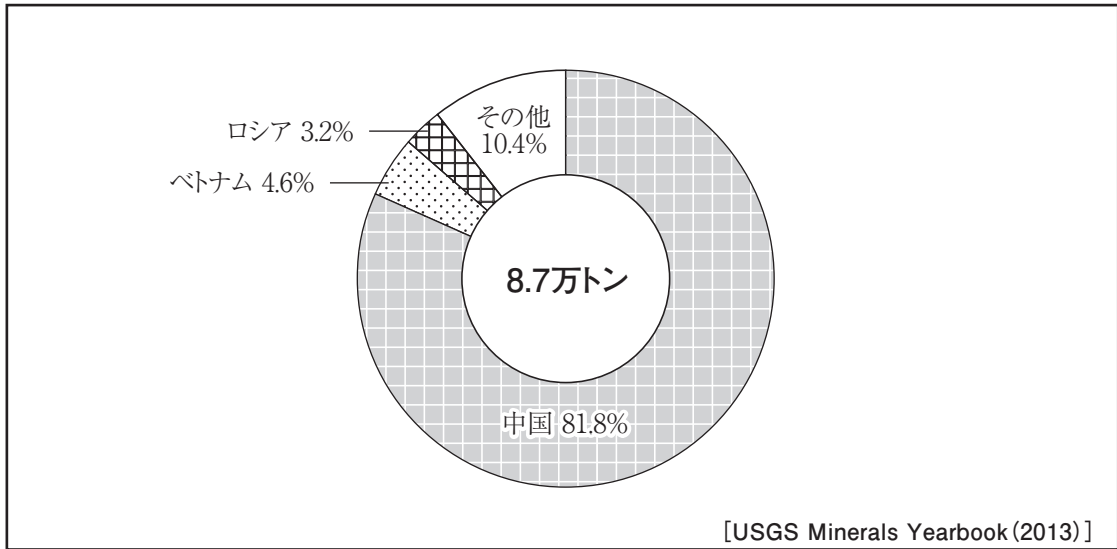


図3

- ① コバルト ② チタン ③ リチウム ④ タングステン

4 ヨーロッパの国ぐにに関する次の文章を読み、設問に答えよ。(解答番号 ～)

ヨーロッパの文化は、古代ギリシャ・ローマやキリスト教の影響の下に築かれてきた。キリスト教は時代とともに多くの宗派・教派に分かれ、地域によってさまざまだが、大きくみると、北ヨーロッパでは , 南ヨーロッパでは , 東ヨーロッパでは が多い。そして、ヨーロッパで使われている言語の大部分は、ゲルマン語派^(a)、ラテン語派、そしてスラブ語派の3つのグループに分かれている。

西ヨーロッパは、近代以降に自然科学や技術の面で発展をとげ、政治では民主主義の制度をつくり、近代国家のモデルとなってきた。しかし、20世紀前半には2度にわたる世界大戦があり、その被害は大きかった。こうした戦争をくり返さないために、紛争のもとになってきた石炭資源と鉄鋼業を共同管理下におくことを始めとし、その後もより幅広い分野での経済統合を模索してきた。その結果がヨーロッパ連合(EU)である。には、決済用の仮想通貨として単一通貨・ユーロを導入し、からは日常の消費生活にも導入されるようになった。^(b)

ヨーロッパの工業は、イギリスのロンドン盆地から北イタリアまで広がると呼ばれる地域を中心としつつも、多極化が進んでいる。また、スペイン北東部やイタリアのでは、伝統工業地域の再生も進んでいる。EUのGDPをみると、その経済圏は、とほぼ同じ規模に相当する。EUの域内貿易比率は、市場統合の進展によって、約と高くなっている。他方、EUの域外の輸出先としてはが最も高い比率を占めている。

一方、EUの統合が進む反面、地域間の経済格差の問題をはじめ、民族問題、政治的統合の課題、環境問題、エネルギー問題など、さまざまな課題^(c)もみられている。

設 問

1) 空所 ～ に入れる語句の組合せとして正しいものを、選択肢から1つ選べ。

- | | | | |
|---|-----------|-----------|-----------|
| ① | ア：カトリック | イ：プロテスタント | ウ：東方正教 |
| ② | ア：プロテスタント | イ：カトリック | ウ：東方正教 |
| ③ | ア：プロテスタント | イ：東方正教 | ウ：カトリック |
| ④ | ア：東方正教 | イ：カトリック | ウ：プロテスタント |
| ⑤ | ア：東方正教 | イ：プロテスタント | ウ：カトリック |
| ⑥ | ア：カトリック | イ：東方正教 | ウ：プロテスタント |

2) 空所 , に入れる語句の組合せとして正しいものを, 選択肢から1つ選べ。

- | | |
|-----------|---------|
| ① エ：1981年 | オ：1993年 |
| ② エ：1989年 | オ：1995年 |
| ③ エ：1999年 | オ：2002年 |
| ④ エ：2009年 | オ：2013年 |

3) 空所 , に入れる語句の組合せとして正しいものを, 選択肢から1つ選べ。

- | | |
|-------------|-----------|
| ① カ：ドックランズ | キ：サードイタリー |
| ② カ：サードイタリー | キ：ブルーバナナ |
| ③ カ：サードイタリー | キ：ドックランズ |
| ④ カ：ブルーバナナ | キ：サードイタリー |
| ⑤ カ：ブルーバナナ | キ：ドックランズ |
| ⑥ カ：ドックランズ | キ：ブルーバナナ |

4) 空所 , に入れる語句の組合せとして正しいものを, 選択肢から1つ選べ。

- | | |
|----------|------|
| ① ク：アメリカ | ケ：6割 |
| ② ク：アメリカ | ケ：4割 |
| ③ ク：日本 | ケ：2割 |
| ④ ク：日本 | ケ：4割 |
| ⑤ ク：中国 | ケ：2割 |
| ⑥ ク：中国 | ケ：6割 |

5) 下線部分(a)に関連して, ゲルマン語派に属する言語として正しいものを, 選択肢から1つ選べ。

- | | | |
|----------|-----------|------|
| ① ギリシャ語 | ② ロシア語 | ③ 英語 |
| ④ ハンガリー語 | ⑤ フィンランド語 | |

- 6) 下線部分(b)に関連して、次の図中のA～Eのうち、EUの本部がある国として正しいものを、下の①～⑤の選択肢から1つ選べ。 29



図

- ① A ② B ③ C ④ D ⑤ E

- 7) 下線部分(c)に関する説明として最も適切なものを、選択肢から1つ選べ。 30

- ① フランスでは少子高齢化の加速化によって、合計特殊出生率は依然上昇に転じないなか、年金の支払額が増加し、税を負担する生産年齢人口は減少する深刻な問題を抱えている。
- ② 地域別1人当たりのGDPは東と西のヨーロッパで5～10倍の開きがあり、さらに西ヨーロッパでもデンマークやオランダなどの上位国と、ポルトガルやスペインとの間に差がみられる。
- ③ イタリアやギリシャは、EUには加盟しているが、金融政策などが国の利害と合わず、また政治的な独自性を失いたくないためにユーロを導入しない国の例である。
- ④ EUのエネルギー政策全般としては地球温暖化への対策を重視している。しかし、EUのなかでも、ドイツは原子力への依存度が高いが、フランスなどは原子力を使わないエネルギー政策をとり、多くを石油や石炭に依存している。

※試験問題は次のページに続きます。

5 移民に関する文章を読み、設問に答えよ。(解答番号 ～)

国際的な人口移動は、その時代や地域のさまざまな状況を反映している。

アメリカの開拓は、17世紀前半、イギリス人の清教徒によって、ニューイングランド地方^(a)への入植から始まった。1776年に、アメリカが独立宣言をしたときには13州にすぎなかった。しかし、それ以降、新しい国土を獲得し、開拓前線は、内陸へと移動した。その後、多様な地域から人びとが流入したため、人種構成は複雑になった。近年では、^(b)を話す地域からの流入の増加が著しい。^(c)

カナダでは、17世紀以降、ヨーロッパからアジアへの航路の探索や、のために、ヨーロッパ人が居住するようになった。とくに、イギリス系の人びとは、周辺の海岸部などに入植した。一方、フランス系の人びとは、をさかのぼって入植し、五大湖周辺の地域が開発された。18世紀になるとイギリスの勢力が急速に強くなり、フランスが開発していた地域も、イギリス領となった。そこで、イギリス系住民とフランス系住民が共存できるように、ようになった。しかし、多数のフランス系住民が居住する州では、フランス系住民のアイデンティティとして民族自覚を尊重するナショナリズムが根強く残っている。

日本からアメリカへの移民は、1868年にハワイへ渡ったのが最初とされる。ラテンアメリカへの集団移住は19世紀末に始まり、1908年には、農園での住み込み労働に従事するため、への集団移住が始まった。1993年にへの組織的移住が終了したけれども、現在最大の日系社会が存在する国は、依然としてである。逆に、1990年代には、労働力が不足した日本に、ラテンアメリカの日系人が出稼ぎに来て、工場などで働くようになった。とくに、関連工場の多いなどには、工場で働く日系人が多く住んでいる。

設問

- 1) 空所 , に入れる語句と を公用語とする国の位置(図1)の組合せとして正しいものを, 下の①~④の選択肢から1つ選べ。

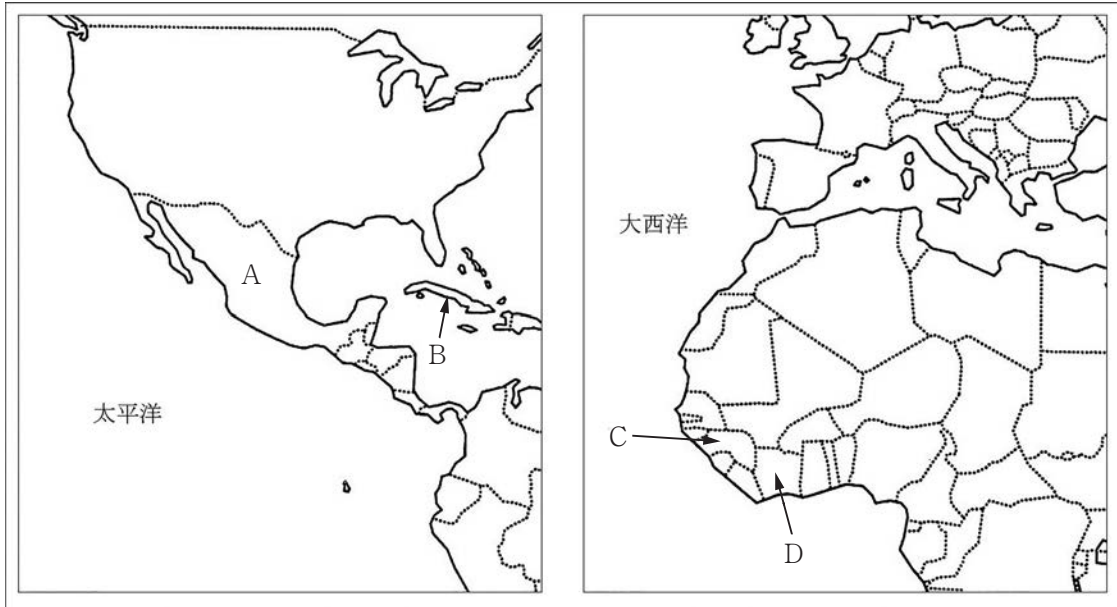


図1

	ア	イ	図1
①	スペイン語	ヒスパニック	A
②	フランス語	ヒスパニック	B
③	スペイン語	アフリカ系	C
④	フランス語	アフリカ系	D

- 2) 空所 ~ に入れる語句の組合せとして正しいものを, 選択肢から1つ選べ。

	ウ	エ	オ
①	たら漁や毛皮の交易	ハドソン湾	セントローレンス川
②	たら漁や毛皮の交易	フォックス湾	ハドソン川
③	地下資源(金)の開発	ハドソン湾	ハドソン川
④	地下資源(金)の開発	フォックス湾	セントローレンス川

3) 空所 , に入れる語句と に該当する州の位置(図2)の組合せとして正しいものを、下の①～④の選択肢から1つ選べ。

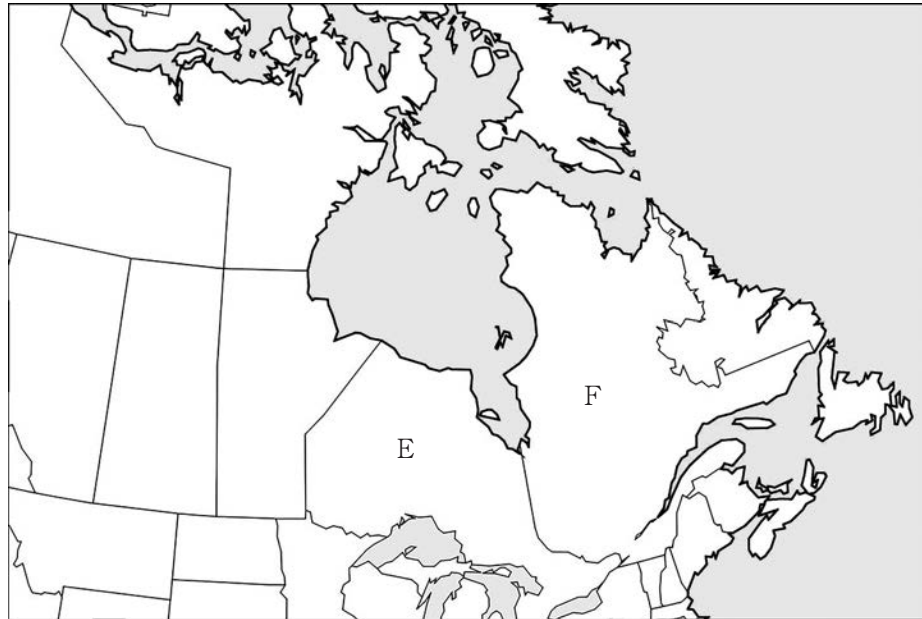


図2

	カ	キ	図2
①	多文化主義がとられる	ケベック	E
②	人種のるつぼを目ざす	オンタリオ	F
③	多文化主義がとられる	ケベック	F
④	人種のるつぼを目ざす	オンタリオ	E

4) 空所 , に入れる語句と に該当する国の位置(図3)の組合せとして正しいものを, 下の①~④の選択肢から1つ選べ。

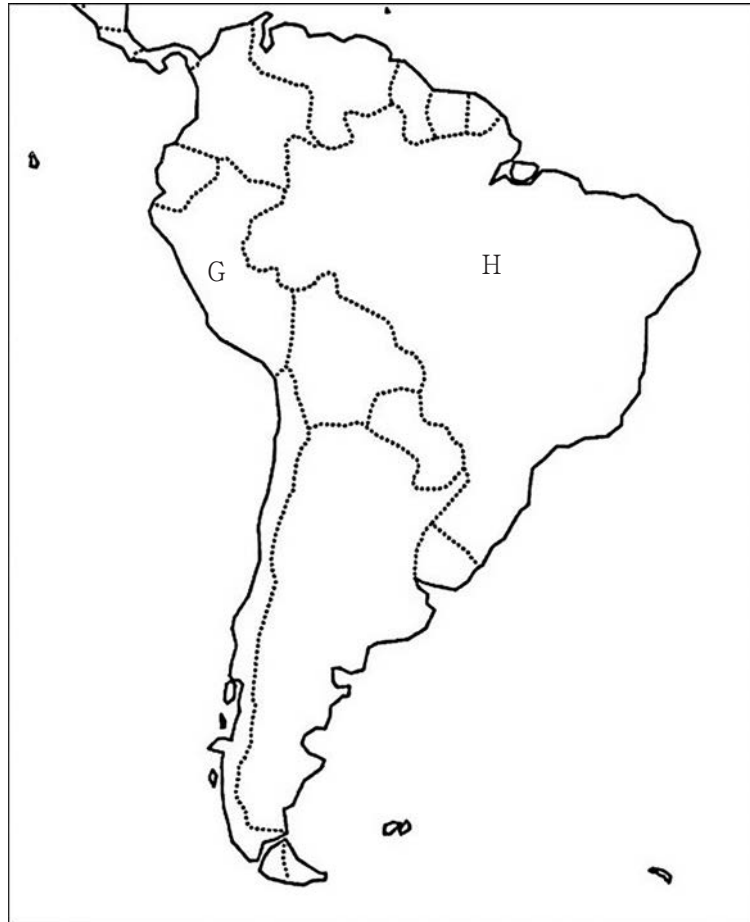


図3

	ク	ケ	図3
①	小麦	ブラジル	G
②	コーヒー	ペルー	H
③	コーヒー	ブラジル	H
④	小麦	ペルー	G

- 5) 空所 , に入れる語句と に該当する都市の位置(図4)の組合せとして正しいものを, 下の①~④の選択肢から1つ選べ。

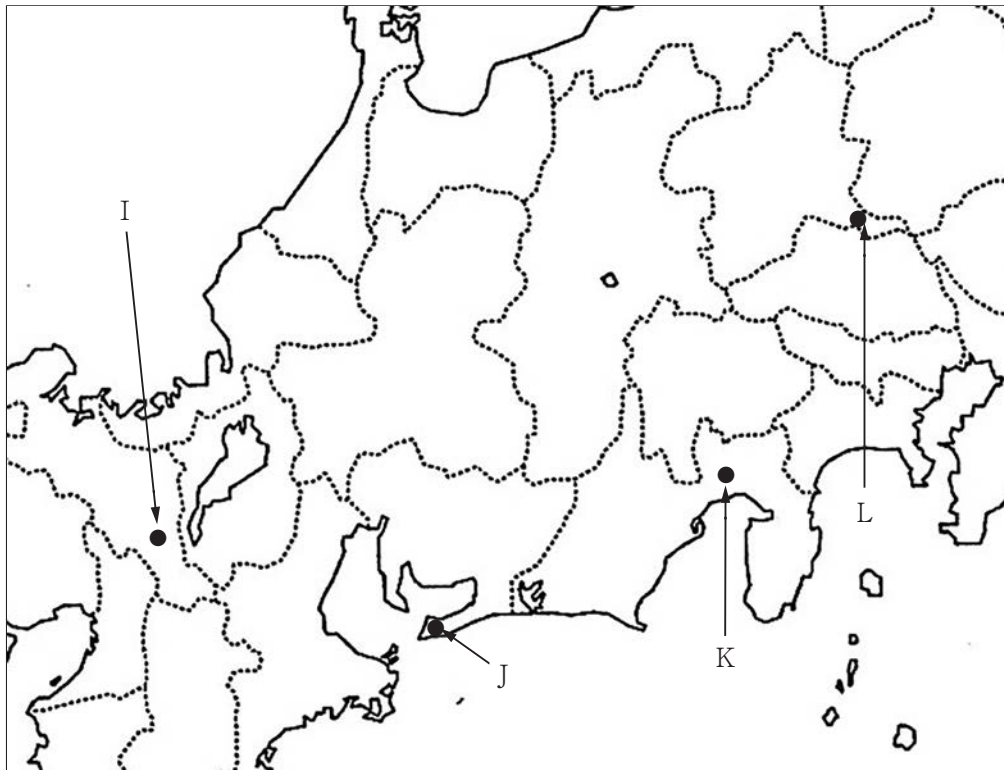


図4

	コ	サ	図4
①	自動車	愛知県豊田市	J
②	半導体	京都府京都市	I
③	半導体	静岡県浜松市	K
④	自動車	群馬県大泉町	L

- 6) 下線部分(a)に関連して, イギリス人が入植した地域に含まれる現在のアメリカの州の名前として正しいものを, 選択肢から1つ選べ。

- ① フロリダ州
- ② マサチューセッツ州
- ③ ルイジアナ州
- ④ テキサス州

7) 下線部分(b)との**関連がない語句**を，選択肢から1つ選べ。 37

- ① タウンシップ制
- ② アシエンダ
- ③ ホームステッド法
- ④ 西漸運動

8) 下線部分(c)に関連して述べた文として**不適當なもの**を，選択肢から1つ選べ。 38

- ① 現在のアメリカ人の中には，綿花，たばこ，サトウキビ栽培などの労働力として連れてこられた者の子孫がいる。
- ② 19世紀に流入した移民のほとんどは，ヨーロッパ出身である。
- ③ 移民数の推移をみると，20世紀になってオセアニア出身者が約半数を占めている。
- ④ 1960年代に移民法が改正され，アジア出身の移民が増えた。