

2024

経済・経営
人文・法学部

地理問題

解答はすべてマーク式で解答用紙に記入して下さい。
解答用紙のみ提出して下さい。

2024年2月9日(金)実施

マーク式解答用紙記入上の注意

- [1] 解答用紙はすべてHBの黒鉛筆で記入して下さい。(万年筆・ボールペン・シャープペンシルなどは使用できません。)
- [2] 解答用紙は折りまげたり、破ったり、汚したりしないで丁寧に取り扱いして下さい。
- [3] 解答は解答用紙の指定された解答欄に記入し、その他の部分には何も書いてはいけません。
- [4] 氏名を記入して下さい。
- [5] 受験番号を記入し、さらにその下のマーク欄にマークして下さい。
- [例] 受験番号が0010123のときは

氏 名
鈴木一郎

受 験 番 号						
0	0	1	0	1	2	3
0	0	0	0	0	0	0
1	1	1	1	1	1	1
2	2	2	2	2	2	2
3	3	3	3	3	3	3
4	4	4	4	4	4	4
5	5	5	5	5	5	5
6	6	6	6	6	6	6
7	7	7	7	7	7	7
8	8	8	8	8	8	8
9	9	9	9	9	9	9

- [6] 解答科目欄から解答する科目を1つ選び、科目の右の○にマークして下さい。マークされていない場合、または複数の科目にマークされている場合は、0点となります。
- [7] 解答番号は 1 から 36 まであります。
マークの記入方法は、例えば、 10 と表示のある問に対して③と解答する場合は、次の[例]のように解答番号10の解答欄に③とマークして下さい。

[例]

解答番号	解 答 欄									
10	①	②	③	④	⑤	⑥	⑦	⑧	⑨	⑩

- [8] 一度記入したマークを訂正する場合、消しゴムで完全に消してから記入しなおして下さい。
- [9] 解答がおわったら、解答用紙に付着している消しゴムの消しくずをきれいに取り除いて下さい。

(注) ① と ② のマーク間違いに注意して下さい。

1 地形と災害に関する次の文章を読み、設問に答えよ。(解答番号 ~)

地球の表層部は、プレートとよばれる十数枚の硬い層に分かれており、それぞれが長い時間をかけて水平方向に動いていると考えられている。プレートの境界は、各プレートの動く向きによって、狭まる境界、広がる境界、ずれる境界の3種類に大きく分類できる。それぞれの境界にあたる地域は、 といい、地殻変動や火山活動が特に活発である。海洋プレートが大陸プレートの下に沈み込んでいる境界には ができ、その大陸プレート側の縁には弧状列島や火山列などができる。また、大陸プレートどうしが衝突している境界には大山脈ができる。一方、太平洋や大西洋などの海底で隣り合うプレートが互いに遠ざかり、引っ張り合う力が働く境界には ができ、プレートが次々と形成されている。陸地では、アイスランド島がこの広がる境界の上にある。ずれる境界は、隣り合うプレートが互いに行き交い、水平方向にずれ動くような力が働く境界で、サンアンドレアス断層がその典型である。

日本は、 に位置しており、災害の多い国である。プレートの境界や活断層に沿って、岩盤が割れたりずれ動いたりすると、地震が発生する。1995年の 地震は、活断層がずれ動いて発生した直下型地震で、多数の建物が倒壊するとともに、ライフラインの断絶や火災などの二次被害を発生させた。地震の直前予知は困難であるが、断層の活動歴を調査するなどして、長期的な地震リスクが予測されている。 プレートがユーラシアプレートの下に沈み込む南海トラフでは、将来的に大地震の発生する可能性が高いとされている。火山もその周辺で災害の危険性が高い。一方で、人びとは、湧出する温泉や火山の景観を観光資源として利用するなど、火山の恩恵を受けている。

設 問

1) 空所 ~ に入れる語句の組合せとして最も適当なものを、選択肢から1つ選べ。

- | | | | |
|---|-------|------------|-----------------------------------|
| ① | ア：外 帯 | イ：海 溝 | ウ：海 ^{かい} 嶺 ^{れい} |
| ② | ア：外 帯 | イ：大洋底(海洋底) | ウ：海 溝 |
| ③ | ア：変動帯 | イ：海 溝 | ウ：海 嶺 |
| ④ | ア：変動帯 | イ：大洋底(海洋底) | ウ：海 溝 |

2) 空所 , に入れる語句の組合せとして正しいものを, 選択肢から1つ選べ。

- ① エ: 兵庫県南部 オ: フィリピン海
- ② エ: 兵庫県南部 オ: 太平洋
- ③ エ: 東北地方太平洋沖 オ: フィリピン海
- ④ エ: 東北地方太平洋沖 オ: 太平洋

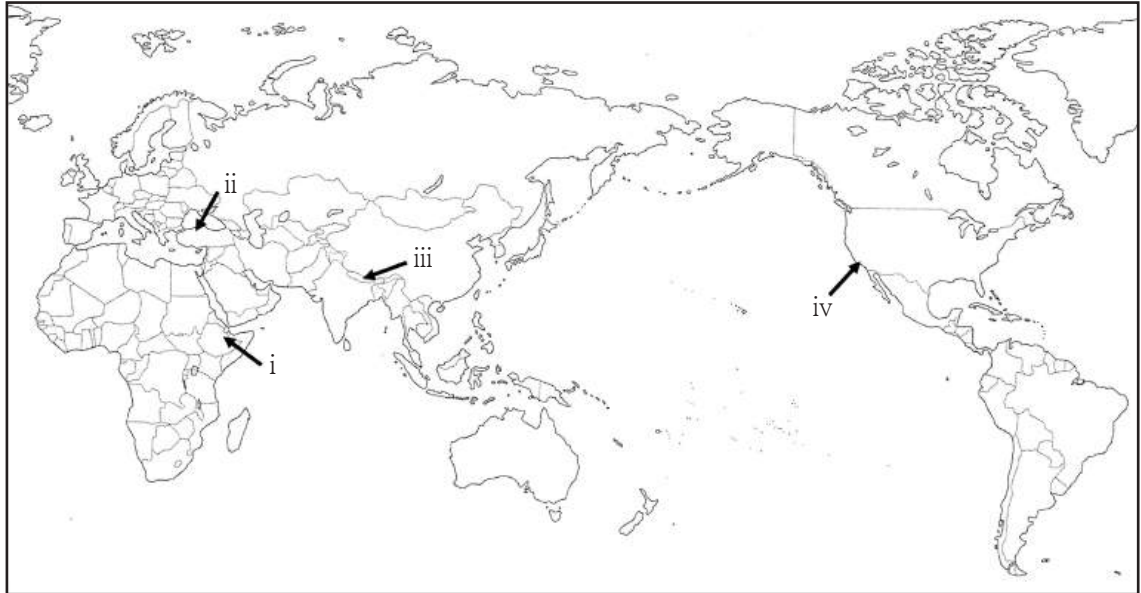
3) 下線部分(a)に関連して, プレートの沈み込んでいる境界にほぼ平行して島々が連なっている地域として**不適当なもの**を, 選択肢から1つ選べ。

- ① マリアナ諸島 ② アリューシャン列島 ③ ハワイ諸島 ④ フィリピン諸島

4) 下線部分(b)に関連して, アイスランドについて述べた文として最も適当なものを, 選択肢から1つ選べ。

- ① 北アメリカプレートとアフリカプレートの境界に位置している。
- ② マグマが線状に噴出することがある。
- ③ 地熱を利用した発電が総発電量の70%を超えている。
- ④ 氷河は分布していない。

5) 下線部分(c)に関連して, 次の図中の i ~ ivのうち, この断層のある位置として最も適当なものを, 下の①~④の選択肢から1つ選べ。 5



図

① i

② ii

③ iii

④ iv

6) 下線部分(d)に関連して、地震とそれに伴う災害について述べた v～vii の文の正誤の組合せとして正しいものを、下の①～⑧の選択肢から1つ選べ。

6

v マグニチュードは、地震計で記録された各地点の揺れの大きさを表す指標で、日本では0～4, 5弱, 5強, 6弱, 6強, 7の10段階で示される。

vi 脆弱な地盤では、地震の揺れが大きくなったり、液状化現象が発生したりすることがある。

vii 震源から離れた場所であっても、津波によって被害が生じることがある。

	v	vi	vii
①	正	誤	誤
②	正	誤	正
③	正	正	誤
④	正	正	正
⑤	誤	正	正
⑥	誤	正	誤
⑦	誤	誤	正
⑧	誤	誤	誤

7) 下線部分(e)に関連して、火山噴火に伴う災害について述べたviii～xの文の正誤の組合せとして正しいものを、下の①～⑧の選択肢から1つ選べ。 7

viii 溶岩流は、火山灰や溶岩片、高温のガスがまざり合って高速で流下するため、人的被害が大きくなりやすい。

ix 大規模な噴火により、火山灰が大気中に長期間とどまると、地球規模で気温を上昇させることがある。

x 火山灰は、風下側に降り積もって、農作物を枯らすなどの被害を起こすことがある。

	viii	ix	x
①	正	誤	誤
②	正	誤	正
③	正	正	誤
④	正	正	正
⑤	誤	正	正
⑥	誤	正	誤
⑦	誤	誤	正
⑧	誤	誤	誤

8) 下線部分(f)に関連して、カルデラ湖の例として正しいものを、選択肢から1つ選べ。

8

① 琵琶湖

② 霞ヶ浦

③ 洞爺湖

④ サロマ湖

※試験問題は次のページに続きます。

2 環境問題に関する次の文章を読み、設問に答えよ。(解答番号 ~)

私たちは、さまざまな環境問題に直面している。例えば、農地開発や木材確保などのために世界各地で森林の減少が進んでいる。特に熱帯林^(a)の減少は深刻で、地球全体の生態系システムに影響を与えている。多種の樹木が生育する や 流域などの熱帯林では有用材だけを伐採することが難しく、大規模に森の木々を伐採して有用材だけを搬出する方法がとられるため、森林の規模が減少している。

産業が発達した国々では、工場や自動車などからの排気や排水によって大気汚染や水質汚濁が生じている。また、化石燃料の燃焼はPM2.5などの粒子状物質が生じる原因となっている。冷蔵庫などの冷却剤として使われてきた一部のフロンは、成層圏に達するとオゾン層を するため、1980年代後半から生産・使用が されている。

世界の平均気温は19世紀末から上昇をはじめ、一時期下がったこともあったが、1960年代半ばからは上昇し続けている。気候変動に関する政府間パネル(IPCC)の報告では、この気温の上昇は単なる自然現象ではなく、大部分が人間活動による二酸化炭素などの温室効果ガス^(c)の影響であるとされている。世界各国は気候変動枠組条約を結び、 年に温室効果ガス削減の具体的な数値目標を京都議定書として定めた。その後も、同条約に基づく締約国会議は継続して開催されている。^(d)

設 問

1) 空所 , に入れる語句の組合せとして正しいものを、選択肢から1つ選べ。

- ① ア：東南アジア イ：ガンジス川
- ② ア：東南アジア イ：アマゾン川
- ③ ア：南ヨーロッパ イ：ガンジス川
- ④ ア：南ヨーロッパ イ：アマゾン川

2) 空所 , に入れる語句の組合せとして正しいものを、選択肢から1つ選べ。

- ① ウ：破 壊 エ：推 奨
- ② ウ：強 化 エ：推 奨
- ③ ウ：破 壊 エ：規 制
- ④ ウ：強 化 エ：規 制

3) 空所 に入れる数値として正しいものを，選択肢から1つ選べ。

- ① 1977 ② 1992 ③ 1997 ④ 2002

4) 下線部分(a)に関連して，熱帯林の機能を示すものとして**不適当なもの**を，選択肢から1つ選べ。

- ① 雨水や土壌の流出を防ぐ。
② さまざまな動植物のすみかとして生物多様性を保全する。
③ 二酸化炭素を吸収して酸素を供給する。
④ 太陽からの紫外線を吸収し，塩害を防ぐ。

5) 下線部分(b)に関連して，その影響や特徴を示すものとして正しいものを，選択肢から1つ選べ。

- ① 人々の呼吸器に健康被害を生じさせる。
② 国境を越えた移動はしない。
③ 石造りの像を溶かす。
④ 郊外と比べて都心部の気温を上昇させる。

6) 下線部分(c)に関連して，二酸化炭素以外の例として最も適当なものを，選択肢から1つ選べ。

- ① 水素 ② 酸素 ③ 窒素 ④ メタン

7) 下線部分(d)に関連して，その決定内容について正しいものを，選択肢から1つ選べ。

- ① 温室効果ガスの削減義務は，新興国だけに課された。
② 温室効果ガスの削減義務は，先進国だけに課された。
③ 温室効果ガスの削減義務は，先進国，新興国を問わずに課された。
④ 温室効果ガスの削減義務は，南半球の国だけに課された。

3 工業に関する次の文章を読み、設問に答えよ。(解答番号 ～)

工業は、農林水産物や鉱産物などの原材料を加工して、新たな を生み出し、有用な製品をつくる産業である。一般に、原材料などを生産する農林水産業や鉱業と比べて が高い。工業が発達すると雇用の機会が増えるとともに、所得が高くなって国民の生活が豊かになり、さらに、商業やサービス業などほかの産業の発展ももたらされる。 が繰り返されることによって工業は発展する。18世紀末までには、イギリスで綿工業の紡績や織布の工程が機械化され、工場制機械工業が発展した。蒸気機関や鉄道が発明され、生産力の拡大とともに、さまざまな社会的変化がおこった。こうした一連の変革を産業革命とよんでいる。19世紀後半には、鉄鋼業や機械工業などの が盛んになった。工場が炭田地域や交通に便利な大都市に集中することでドイツのルール地域やアメリカの五大湖沿岸地域のような工業地域があらわれた。^(a)

日本においても、19世紀後半以降に工業化が進められ、1950年代半ばからの高度経済成長により の仲間入りを果たすとともに、工業の構造や立地も大きく変容した。日本の高度経済成長を牽引した素材工業と機械工業では、大規模な投資と所得水準の上昇により が可能となり、関連産業の成長も促した。

日本を除くアジア諸国では、工業の発達が遅れていたが、第2次世界大戦後は各国とも工業化に向けて動き始めた。1960年代からは国内資源の加工度を高めて輸出したり、輸出向けの部品生産などを行ったりする輸出指向型の工業化が始まった。^(b)

工業とその立地には深い関係がある。工場の適地を考えるさい、原料産地や からの距離など、地域によって異なる外部環境を工業の立地条件とよんでいる。特にドイツの経済学者のウェーバーは、原料とその加工工程の違いにより製品の が異なってくることに着目し、工業立地の法則性について提起した。^(c)

設 問

1) 空所 , 入れる語句の組合せとして最も適当なものを, 選択肢から1つ
選べ。

- | | | |
|---|--------|---------|
| ① | ア：付加価値 | イ：土地生産性 |
| ② | ア：付加価値 | イ：労働生産性 |
| ③ | ア：市場価値 | イ：土地生産性 |
| ④ | ア：市場価値 | イ：労働生産性 |

2) 空所 , 入れる語句の組合せとして最も適当なものを, 選択肢から1つ
選べ。

- | | | |
|---|--------|---------|
| ① | ウ：技術継承 | エ：組立型工業 |
| ② | ウ：技術継承 | エ：重工業 |
| ③ | ウ：技術革新 | エ：組立型工業 |
| ④ | ウ：技術革新 | エ：重工業 |

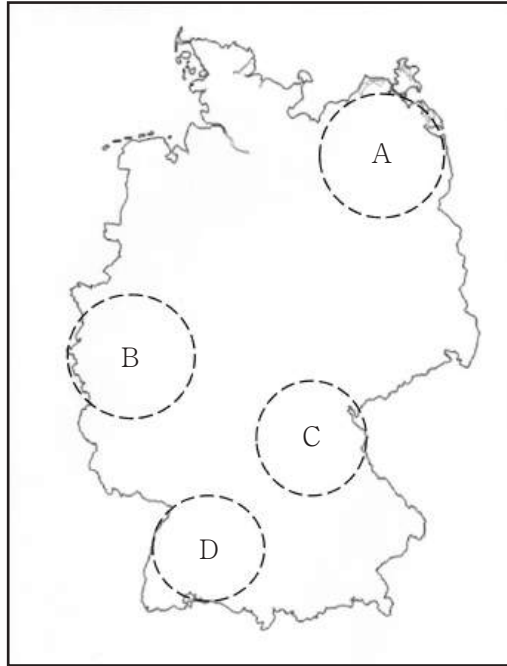
3) 空所 , 入れる語句の組合せとして最も適当なものを, 選択肢から1つ
選べ。

- | | | |
|---|---------|-----------|
| ① | オ：新興国 | カ：大量生産 |
| ② | オ：新興国 | カ：多品種少量生産 |
| ③ | オ：先進工業国 | カ：大量生産 |
| ④ | オ：先進工業国 | カ：多品種少量生産 |

4) 空所 , 入れる語句の組合せとして正しいものを, 選択肢から1つ選べ。

- | | | |
|---|---------|-------|
| ① | キ：消費市場 | ク：輸送費 |
| ② | キ：消費市場 | ク：労働費 |
| ③ | キ：多国籍企業 | ク：輸送費 |
| ④ | キ：多国籍企業 | ク：労働費 |

- 5) 下線部分(a)に関連して、次の図中のA～Dのうち、この地域の位置として最も適当なものを、下の①～④の選択肢から1つ選べ。 20



図

- ① A ② B ③ C ④ D

- 6) 下線部分(b)に関連して、1981年にルックイースト政策を始めた国として正しいものを、選択肢から1つ選べ。 21

- ① シンガポール
② タイ
③ マレーシア
④ インドネシア

- 7) 下線部分(c)に関連して、労働力指向型工業の例として最も適当なものを、選択肢から1つ選べ。 22

- ① ビール，食品加工，清涼飲料水
② 鉄鋼，セメント
③ 自動車，石油化学，石油精製
④ 衣類，電子(電機)部品

※試験問題は次のページに続きます。

4 ラテンアメリカに関する次の文章を読み、設問に答えよ。(解答番号 ～)

もともとラテンアメリカには、メキシコを中心とするアステカ、アンデス高地の などの先住民による高度な文明があった。しかし、大航海時代にスペインやポルトガルなどのラテン系のヨーロッパ人が植民地化を進めた。先住民の人口は、過酷な労働や感染症の影響で大きく減少したことから、 やブラジルでは、新たな労働力としてアフリカから奴隷として大勢の人々を強制移住させた。そのため、ラテンアメリカの人種や民族は多様で人口構成には地域の特徴がある。また、ヨーロッパやアフリカの文化や伝統が融合して独特の文化が生まれている。例えば、リオデジャネイロのカーニバルは、もともとはヨーロッパにおける の宗教行事であったが、アフリカ系の人々が参加することで のリズムで踊るにぎやかな祭りに変化した。

ラテンアメリカでは、大土地所有制に基づく大規模な農牧場がある。ブラジルでは、大農園でコーヒー、バナナ、綿花の他に ^(b) や を栽培している。アルゼンチンでは、ラプラタ川流域に広がる肥沃な大草原で肉牛の飼育をしている。その一方で、大土地所有制の影響を受けずに先住民が伝統的な農業を行っている地域もある。標高の高い冷涼な地域では、主食である ^(c) やとうもろこしを生産しながら、リヤマや などの家畜を飼って自給自足の暮らしをしてきた。

設 問

1) 空所 , に入れる語句の組合せとして正しいものを、選択肢から1つ選べ。

- | | | |
|---|-------|-------------|
| ① | ア：インカ | イ：西インド諸島 |
| ② | ア：インカ | イ：フォークランド諸島 |
| ③ | ア：マヤ | イ：西インド諸島 |
| ④ | ア：マヤ | イ：フォークランド諸島 |

2) 空所 , に入れる語句の組合せとして正しいものを、選択肢から1つ選べ。

- | | | |
|---|-----------|-------|
| ① | ウ：プロテスタント | エ：サンバ |
| ② | ウ：プロテスタント | エ：レゲエ |
| ③ | ウ：カトリック | エ：サンバ |
| ④ | ウ：カトリック | エ：レゲエ |

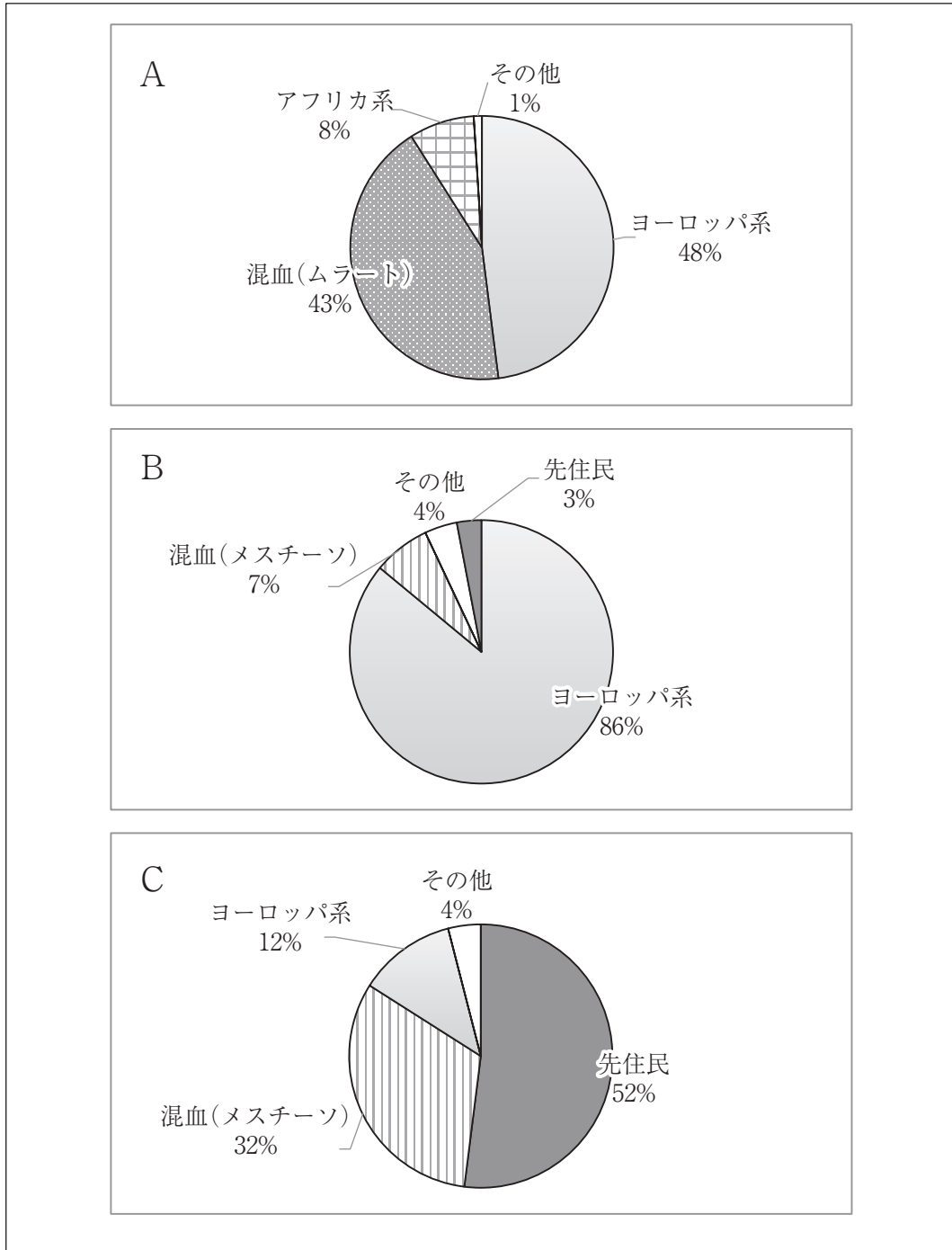
3) 空所 , に入れる語句の組合せとして正しいものを, 選択肢から1つ選べ。

- ① オ:油やし カ:カカオ
- ② オ:油やし カ:天然ゴム
- ③ オ:さとうきび カ:カカオ
- ④ オ:さとうきび カ:天然ゴム

4) 空所 , に入れる語句の組合せとして正しいものを, 選択肢から1つ選べ。

- ① キ:じゃがいも ク:ヤク
- ② キ:じゃがいも ク:アルパカ
- ③ キ:さつまいも ク:ヤク
- ④ キ:さつまいも ク:アルパカ

5) 下線部分(a)に関連して、次の図はブラジル、ペルー、アルゼンチンの人種・民族の割合を示したものである。A～Cに該当する国の組合せとして最も適当なものを、下の①～⑥の選択肢から1つ選べ。 27



[Demographic Yearbook 2019, ほか]

図

	A	B	C
①	ブラジル	ペルー	アルゼンチン
②	ブラジル	アルゼンチン	ペルー
③	ペルー	ブラジル	アルゼンチン
④	ペルー	アルゼンチン	ブラジル
⑤	アルゼンチン	ペルー	ブラジル
⑥	アルゼンチン	ブラジル	ペルー

6) 下線部分(b)に関連して、ラテンアメリカの大土地所有制の特色について述べた文として最も
 適当なものを、選択肢から1つ選べ。 28

- ① 大土地所有制はイギリスやフランスから持ち込まれた制度である。
- ② 自ら土地を所有し農業経営に乗り出す中産階級の農民を生み出した。
- ③ 大土地所有制は、多くの者を雇用したため、平等な社会の基盤となっていた。
- ④ 土地を所有する農園主は都市部に居住し、農園の運営は管理人にあたらせていた。

7) 下線部分(c)に関連して、この地域の大草原の呼び名として正しいものを、選択肢から1つ選
 べ。 29

- ① パンパ
- ② パタゴニア
- ③ プレーリー
- ④ リャノ

5 オセアニアに関する次の文章を読み、設問に答えよ。(解答番号 ~)

オセアニアには、オーストラリアのほかに、ミクロネシア、メラネシア、ポリネシアがあり、小さな島々からなる島嶼国^{とうしょ}が太平洋に点在している。オーストラリア大陸の北岸は熱帯で、サバナ^(a)が広がり、一部には熱帯雨林も分布している。また、ニュージーランドは 南端の島国であり、 の影響を受けた西岸海洋性気候である。

オーストラリアでの土地開発は、 にイギリス人によって から始まり、海岸平野から内陸部へと進められ、その後、イギリスによる植民地開発が本格化していった。一方、ニュージーランドは、 にイギリスの植民地となり、オークランドなどの都市を中心に、イギリス風の社会秩序を理想とした国づくりが始まった。しかし、開発が進むにつれ、先住民の との対立が激しくなり、土地の接収^{せつしゅう}だけでなく、キリスト教や英語使用の強制など、同化政策が進められた。

オーストラリアは、エネルギー資源が豊富で、鉱物資源^(b)の世界的な輸出国として知られる。またレアメタルの産出も多く、蓄電池に使われる ^(c) は世界最大の産出量を誇っている。

設 問

1) 空所 , に入れる語句の組合せとして正しいものを、選択肢から1つ選べ。

- ① ア：メラネシア イ：偏西風
- ② ア：メラネシア イ：貿易風
- ③ ア：ポリネシア イ：偏西風
- ④ ア：ポリネシア イ：貿易風

2) 空所 , に入れる語句の組合せとして正しいものを、選択肢から1つ選べ。

- ① ウ：17世紀後半 エ：シドニー
- ② ウ：17世紀後半 エ：ブリスベン
- ③ ウ：18世紀後半 エ：シドニー
- ④ ウ：18世紀後半 エ：ブリスベン

3) 空所 , に入れる語句の組合せとして正しいものを, 選択肢から1つ選べ。

- ① オ: 18世紀前半 カ: アボリジナル(アボリジニ)
- ② オ: 18世紀前半 カ: マオリ
- ③ オ: 19世紀前半 カ: アボリジナル(アボリジニ)
- ④ オ: 19世紀前半 カ: マオリ

4) 空所 に入れる語句として正しいものを, 選択肢から1つ選べ。

- ① タングステン ② バナジウム ③ チタン ④ リチウム

5) 下線部分(a)に関連して, サバナ気候である都市名として正しいものを, 選択肢から1つ選べ。

- ① ダーウィン ② ブルーム ③ パース ④ メルボルン

6) 下線部分(b)に関連して、次の図1は日本のエネルギー資源輸入相手国を示したものである。
 A～Cに該当するエネルギー資源の組合せとして正しいものを、下の①～⑥の選択肢から1つ
 選べ。 35


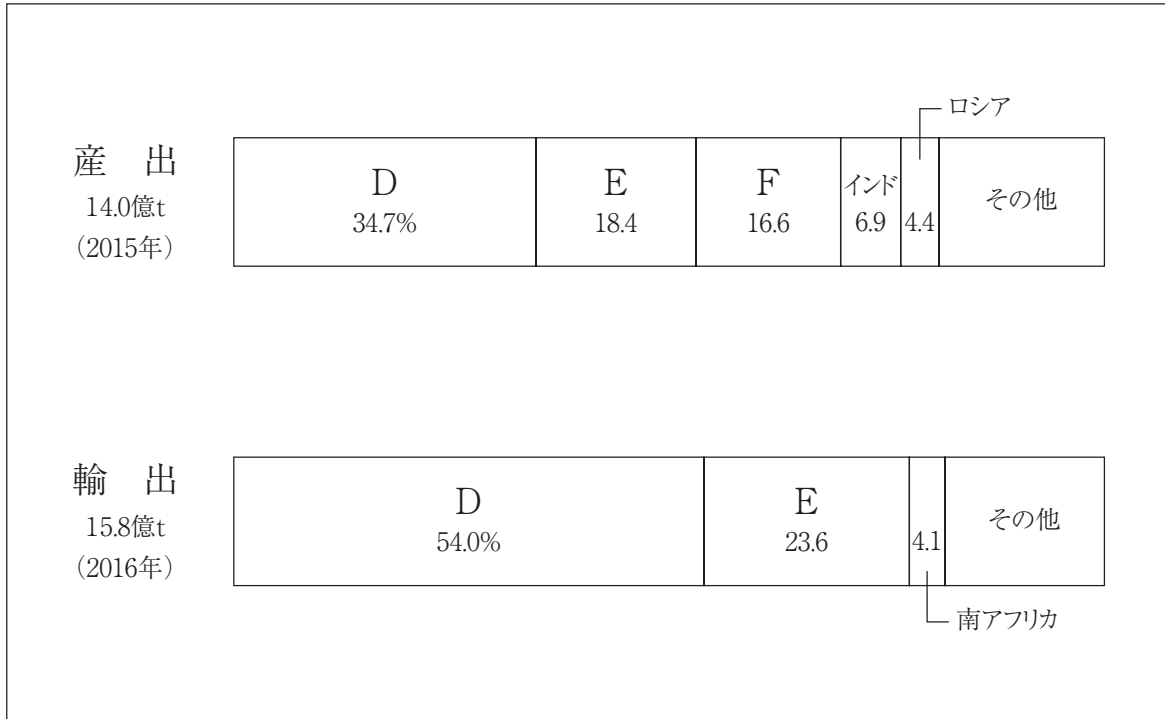


図1

	A	B	C
①	石炭	原油	液化天然ガス
②	石炭	液化天然ガス	原油
③	原油	液化天然ガス	石炭
④	原油	石炭	液化天然ガス
⑤	液化天然ガス	石炭	原油
⑥	液化天然ガス	原油	石炭

7) 下線部分(c)に関連して、次の図2は鉄鉱石の産出と輸出を示したものである。D～Fに該当する国名の組合せとして正しいものを、下の①～⑥の選択肢から1つ選べ。 36



[データブック オブ・ザ・ワールド 2019年]

図2

	D	E	F
①	中 国	ブラジル	オーストラリア
②	中 国	オーストラリア	ブラジル
③	ブラジル	オーストラリア	中 国
④	ブラジル	中 国	オーストラリア
⑤	オーストラリア	ブラジル	中 国
⑥	オーストラリア	中 国	ブラジル